


# KHỞI ĐỘNG





# GAME LẬT MẢNH GHÉP


**Luật chơi:** Ẩn sau các mảnh ghép là các tờ tiền, các em hãy cùng cô lật mở từng mảnh ghép nhỏ để dự đoán mệnh giá tờ tiền nhé. Đội nào đoán nhanh nhất sẽ là đội chiến thắng.













Thứ Sáu ngày 7 tháng 4 năm 2023

Toán

Bài 68: Tiên Việt Nam

## Yêu cầu cần đạt

- Nhận biết được các đồng tiền Việt Nam từ một nghìn đồng đến một trăm nghìn đồng.
- Giải được một số bài toán liên quan đến các tình huống thực tế về tiết kiệm và chi tiêu.



# Các tờ tiền từ 1 000 trở lên





**Em hãy so sánh sự giống  
và khác nhau giữa các tờ  
tiền có mệnh giá từ 1 000  
đồng đến 5 000 đồng**

## Sự giống nhau và khác nhau của các tờ tiền

### \* *Giống nhau:*



Mặt phải đều có ảnh Bác Hồ, có dòng chữ Cộng hòa xã hội chủ nghĩa Việt Nam, có hình quốc huy nước Việt Nam, có số mệnh giá của tờ bạc, có số sêri.



Mặt trái có dòng chữ Ngân hàng Nhà nước Việt Nam.

**\* Khác nhau:**



**Cảnh khai thác gỗ  
Tây Nguyên**



**Nhà máy dệt Nam  
Định**



**Nhà máy thủy điện  
Trị An**

# Các tờ tiền từ 10 000 trở lên



# Các tờ tiền từ 1 000 trở lên





**Em hãy so sánh sự giống và khác nhau giữa các tờ tiền polyme có mệnh giá từ 20.000đ đến 500.000đ**

# Sự giống nhau và khác nhau của các tờ tiền

## \* **Giống nhau:**



Mặt phải đều có dòng chữ Cộng hòa xã hội chủ nghĩa Việt Nam, có quốc huy, có chân dung Bác Hồ, có mệnh giá, có số seri.



Mặt trái có dòng chữ Ngân hàng Nhà nước Việt Nam.

**\* Khác nhau:**



**Chùa Cầu – Hội An**



**Nghênh Lương Đình  
– Phu Văn Lâu – Huế**



**Văn miếu Quốc Tử  
Giám – Hà Nội**

**\* Khác nhau:**



**Vịnh Hạ Long – Quảng Ninh**



**Làng Sen, Nam Đàn, Nghệ An**

# Hoạt động



3

Chú lợn nào đựng nhiều tiền nhất?



$$\begin{aligned} &10\ 000 + 20\ 000 \\ &+ 20\ 000 = 50\ 000 \end{aligned}$$


**=> Chú lợn xanh đựng nhiều tiền nhất.**

2

Mẹ đi chợ mua chanh hết 3 000 đồng và mua hành hết 2 000 đồng. Mẹ đưa cho cô bán hàng 10 000 đồng. Chọn những cách cô bán hàng có thể trả lại tiền thừa cho mẹ.



A



B




C

Số tiền mẹ đã tiêu là  $3\ 000 + 2\ 000 = 5\ 000$  đồng

Số tiền cô bán hàng trả lại mẹ là  $10\ 000 - 5\ 000 = 5\ 000$  đồng

**3** Khi mua mỗi món hàng dưới đây, ta cần trả một tờ tiền có trong hình bên. Em hãy tìm giá tiền của mỗi món hàng, biết:

- Giá tiền của bóng đèn thấp nhất;
- Giá tiền của quyển sách cao nhất;
- Giá tiền của rô-bốt cao hơn giá tiền của cái lược.



**TẠM BIỆT  
VÀ  
HẸN GẶP LẠI**

